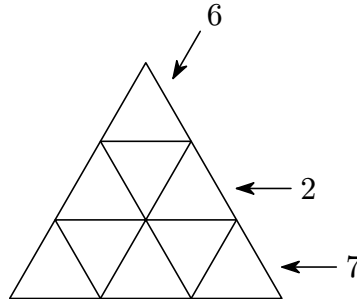


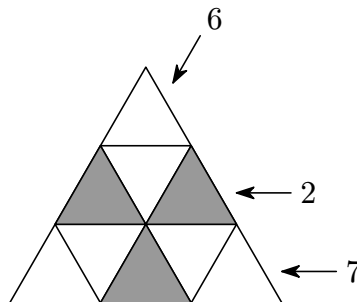
III. kolo kategorie Z9

Z9–III–1

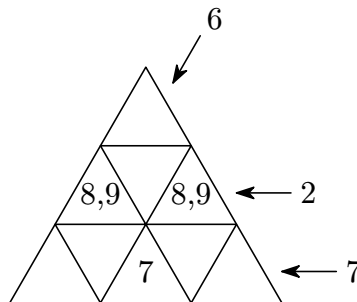
Zjistěte, kolika způsoby lze do jednotlivých políček trojúhelníku na obrázku vepsat čísla 1, 2, 3, 4, 5, 6, 7, 8 a 9 tak, aby součet v každém čtyřpolíчковém trojúhelníku byl 23 a aby na některém políčku ve směru každé šipky bylo vepsáno dané číslo. (E. Novotná)



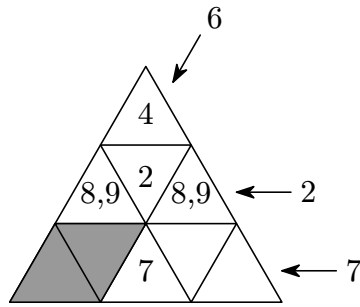
Možné řešení. Součet všech vepsaných čísel je $1 + 2 + 3 + 4 + 5 + 6 + 7 + 8 + 9 = 45$. V obrázku jsou právě tři čtyřpolíчковé trojúhelníky a součet čtveřic čísel vepsaných do těchto trojúhelníků je dohromady $3 \cdot 23 = 69$. V tomto součtu jsou však čísla na šedých políčkách započítána dvakrát (každé patří do dvou čtyřpolíчковých trojúhelníků), ostatní čísla jedenkrát. Součet čísel na třech šedých políčkách proto musí být $69 - 45 = 24$.



Protože největší možný součet tří vepsaných čísel je právě $9 + 8 + 7 = 24$, v šedých políčkách musejí být čísla 7, 8 a 9. Ze zadání víme, že 7 má být ve spodním řádku, v krajních políčkách druhého řádku potom musí být 8 a 9.

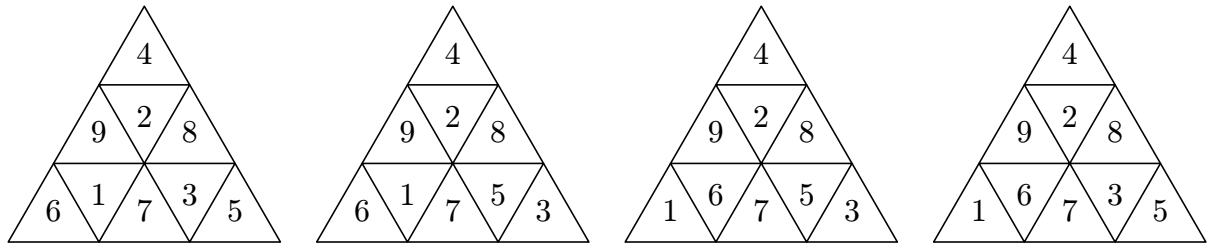


Pro číslo 2 tak zůstává jediné volné místo, viz obrázek. V horním čtyřpolíчковém trojúhelníku nyní chybí jediné číslo, které tudíž umíme doplnit: $23 - 8 - 9 - 2 = 4$.



Číslo 6 musí být na některém šedém políčku v předchozím obrázku, patří tedy do levého čtyřpolíčkového trojúhelníku. Kdyby tento trojúhelník obsahoval číslo 8, tak poslední volné políčko by obsahovalo číslo $23 - 8 - 7 - 6 = 2$, což není možné (2 je již umístěna ve druhém řádku). Levý čtyřpolíčkový trojúhelník proto má ve svém horním políčku číslo 9 a v posledním neobsazeném políčku je $23 - 9 - 7 - 6 = 1$. V šedých políčkách jsou proto čísla 1 a 6, jež můžeme umístit dvěma způsoby.

Na zatím neobsazených místech v pravém čtyřpolíčkovém trojúhelníku mohou být jedině čísla 3 a 5; součet v tomto trojúhelníku vychází skutečně $8 + 7 + 3 + 5 = 23$. Čísla 3 a 5 můžeme doplnit opět dvojím způsobem. Úloha má tedy celkem $2 \cdot 2 = 4$ řešení:



Hodnocení. 3 body za vysvětlení, kde se nacházejí čísla 7, 8 a 9; 1 bod za doplnění čísel 2 a 4; 1 bod za doplnění čísel 6 a 1; 1 bod za správný počet řešení.

Pokud řešitel najde náhodně (bez bodovatelného vysvětlení) jedno správné řešení, udělte 1 bod; za dvě řešení 2 body; za tři a čtyři řešení 3 body.

Z9–III–2

Maruška napsala na každou z deseti kartiček právě jedno z deseti po sobě jdoucích přirozených čísel. Jednu kartičku však ztratila. Součet čísel na zbývajících devíti kartičkách byl 2012. Jaké číslo bylo napsáno na ztracené kartičce? (L. Hozová)

Možné řešení. Nejmenší z deseti napsaných čísel označíme p . Čísla na kartičkách pak byla:

$$p, p + 1, p + 2, p + 3, \dots, p + 9.$$

Součet čísel na všech deseti kartičkách byl $10p + 45$.

Nejprve předpokládejme, že se ztratila kartička s číslem p . Pak by platila následující rovnice:

$$\begin{aligned} (10p + 45) - p &= 2012, \\ 9p &= 1967. \end{aligned}$$

Z předchozího řádku je zřejmé, že p by v tomto případě nebylo přirozené číslo. Předpoklad, že se ztratila kartička s číslem p , proto zavrhneme.

Nyní předpokládejme, že se ztratila kartička s číslem $p + 1$. Obdobně zavrhneme i tuto možnost:

$$\begin{aligned}(10p + 45) - (p + 1) &= 2\,012, \\ 9p &= 1\,968.\end{aligned}$$

Stejně odmítneme i předpoklad, že se ztratila kartička s číslem $p + 2$:

$$\begin{aligned}(10p + 45) - (p + 2) &= 2\,012, \\ 9p &= 1\,969.\end{aligned}$$

Ztratit se nemohla ani kartička s číslem $p + 3$:

$$\begin{aligned}(10p + 45) - (p + 3) &= 2\,012, \\ 9p &= 1\,970.\end{aligned}$$

Až za předpokladu, že se ztratila kartička s číslem $p + 4$, dojdeme k celočíselné hodnotě p :

$$\begin{aligned}(10p + 45) - (p + 4) &= 2\,012, \\ 9p &= 1\,971, \\ p &= 219.\end{aligned}$$

Zbývá nám diskutovat dalších pět možností, tedy ztráty kartiček s čísly $p + 5$ až $p + 9$. V předchozích diskusích docházíme vždy k rovnici, na jejíž levé straně je pouze číslo $9p$. Čísla na pravé straně těchto rovnic se postupně zvětšují o 1. Právě jsme dostali na pravé straně číslo dělitelné devíti, a proto se v následujících pěti diskusích číslo dělitelné devíti vyskytovat nemůže. Úloha má tak jediné řešení, a to že se ztratila kartička s číslem $p + 4 = 219 + 4 = 223$.

Jiné řešení. Nejmenší z deseti napsaných čísel označíme p . Čísla na kartičkách pak byla:

$$p, p + 1, p + 2, p + 3, \dots, p + 9.$$

Číslo na ztracené kartičce označíme $p + c$, kde c představuje jednomístné přirozené číslo nebo nulu. Součet čísel na všech deseti kartičkách byl $10p + 45$. Součet čísel na devíti kartičkách zbylých po ztrátě byl $10p + 45 - (p + c)$, po úpravě $9p + 45 - c$. Docházíme tak k rovnici, kterou upravíme následujícím způsobem:

$$\begin{aligned}9p + 45 - c &= 2\,012, \\ 9p &= 1\,967 + c.\end{aligned}$$

Součet na pravé straně této rovnice musí být dělitelný devíti. Při dělení $1\,967 : 9$ dostaneme výsledek 218 a zbytek 5. Platí tedy $1\,967 = 9 \cdot 218 + 5$. Z tohoto rozkladu je zřejmé, že součet $1\,967 + c$ je dělitelný devíti, jediné pokud $c = 4$. Neznámá p je pak rovna 219 a číslo na ztracené kartičce bylo $p + c = 219 + 4 = 223$.

Hodnocení. 1 bod za vyjádření součtu čísel na deseti kartičkách, tj. např. $10p + 45$; 2 body za výsledek; 3 body za popis postupu.

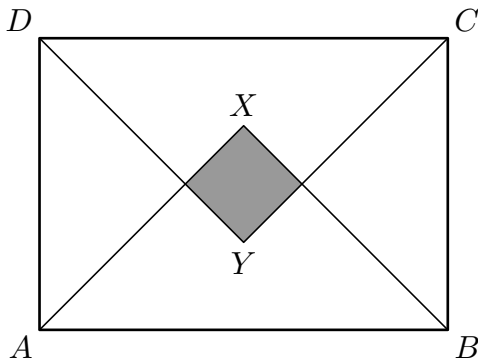
Pokud soutěžící postupuje jako my v prvně uvedeném řešení a po nalezení celočíselného p přestane bez jakéhokoli zdůvodnění prověřovat další možnosti, strhněte 1 bod.

Poznámka. Soutěžící mohou úlohu řešit i „odhadem“ za pomoci aritmetického průměru čísel na devíti zbývajících kartičkách: $2\,012 : 9 = 223$, zbytek 5. Zkusmo vypíší např. devět po sobě jdoucích přirozených čísel takových, aby 223 bylo uprostřed: $219 + 220 + \dots + 227 = 2\,007$. Následně uvažují, zda lze některý sčítanec „zvětšit“ o 5. . . Pokud v takovéto práci není zdůvodněno, že úloha má skutečně jediné řešení, udělte za ni maximálně 5 bodů.

Z9–III–3

Máme obdélník $ABCD$, viz obrázek. Délky stran AB a BC jsou v poměru $7 : 5$. Uvnitř obdélníku $ABCD$ leží body X a Y tak, že trojúhelníky ABX a CDY jsou pravoúhlé rovnoramenné s pravými úhly ve vrcholech X a Y . Plocha společná oběma trojúhelníkům je vybarvena šedě a tvoří čtverec o obsahu 72 cm^2 . Určete délky stran AB a BC .

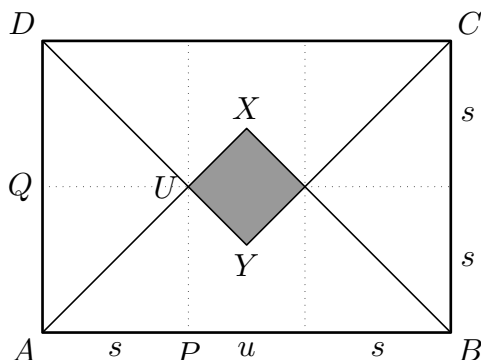
(L. Šimůnek)



Možné řešení. Vypočítáme délku u úhlopříčky šedého čtverce, přičemž vyjdeme ze vztahu pro výpočet obsahu čtverce $S = \frac{1}{2}u^2$:

$$u = \sqrt{2S} = \sqrt{2 \cdot 72} = \sqrt{144} = 12 \text{ (cm)}.$$

Jeden nepojmenovaný vrchol šedého čtverce označíme U , viz obrázek.

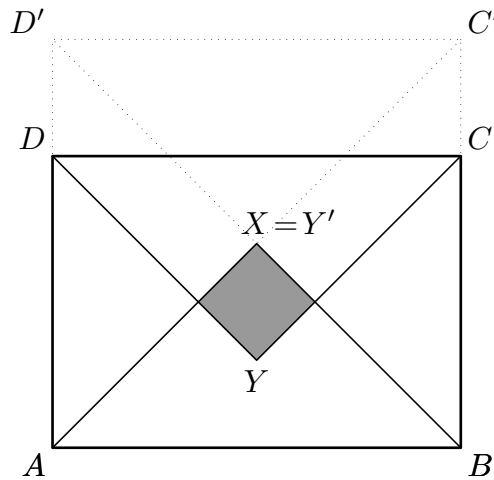


Z bodu U spustíme kolmici ke straně AB a poté ke straně DA . Jejich paty označíme P a Q . Uvědomíme si, že úhel XAB je vnitřním úhlem pravoúhlého rovnoramenného trojúhelníku ABX a má tedy velikost 45° . Odtud plyne, že pravoúhelník $APUQ$ je čtverec. Na obrázku ukazujeme tři další analogicky sestrojené čtverce. Délku strany těchto čtverců označíme s . Z obrázku je zřejmé, že $|AB| = 2s + 12 \text{ (cm)}$ a $|BC| = 2s$. Tyto výrazy dosadíme do poměru uvedeného v zadání. Úpravami vzniklé rovnice získáme $2s$:

$$\begin{aligned} \frac{|AB|}{|BC|} &= \frac{7}{5}, \\ \frac{2s + 12}{2s} &= \frac{7}{5}, \\ 10s + 60 &= 14s, \\ 2s &= 30 \text{ (cm)}. \end{aligned}$$

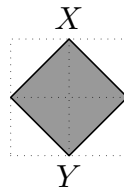
Délka strany AB je $30 + 12 = 42$ (cm) a délka strany BC je 30 cm.

Jiné řešení. V zadaném obrazci posuneme trojúhelník CDY tak, aby se bod Y zobrazil do bodu X , viz obrázek. Posuneme jej tedy o délku úsečky XY a stejně jako u předchozího řešení určíme, že tato délka je 12 cm.



Vzhledem k tomu, že trojúhelníky ABX a $C'D'Y'$ jsou pravoúhlé rovnoramenné, vzniklý pravoúhelník $ABC'D'$ musí být čtverec. Úsečka AB představuje podle zadání 7 dílů a úsečka BC 5 dílů. Úsečka BC' je o 12 cm delší než BC a představuje rovněž 7 dílů. 2 díly jsou tedy 12 cm, 1 díl pak je 6 cm. Délka strany AB je $7 \cdot 6 = 42$ (cm) a délka strany BC je $5 \cdot 6 = 30$ (cm).

Poznámka. Délka úhlopříčky šedého čtverce může být určena také následovně. Průsečík úhlopříček zobrazíme v osové souměrnosti podle jednotlivých stran čtverce, viz obrázek. Získané čtyři body tvoří vrcholy čtverce, který má dvojnásobný obsah než čtverec šedý, tj. $2 \cdot 72 = 144$ (cm²). Délka strany vzniklého čtverce, a tedy i délka úsečky XY , je rovna $\sqrt{144} = 12$ (cm).



Hodnocení. 1 bod za výpočet úhlopříčky šedého čtverce; 3 body za poznatek a zdůvodnění, že rozdíl délek stran AB a BC je roven délce této úhlopříčky; 2 body za výpočet stran AB a BC .

Z9–III–4

Vojta chtěl na kalkulačce sečíst několik trojmístných přirozených čísel. Na první pokus dostal výsledek 2 224. Pro kontrolu sečetl tato čísla znovu a vyšlo mu 2 198. Početl tedy ještě jednou a tentokrát dostal součet 2 204. Ono totiž poslední trojmístné číslo bylo prokleté — Vojta při každém pokusu nestiskl nějakou z jeho číslic dostatečnou silou a do kalkulačky tak zadal místo trojmístného čísla vždy jen dvojmístné. K žádným dalším chybám při sčítání nedošlo. Jaký je správný součet Vojtových čísel? (L. Šimůnek)

Možné řešení. Prokleté číslo nazveme \overline{ABC} . Vojta však místo něj přičítal dvojmístná čísla \overline{AB} , \overline{AC} , \overline{BC} , obecně je budeme značit jako $??$. Dále označíme jako $****$ součet čísel, která Vojta dokázal sčítat bez překlepu. Platí schematicky vyjádřená sčítání:

$$\begin{array}{r} * * * * \\ \quad ? ? \\ \hline 2 2 2 4 \end{array} \qquad \begin{array}{r} * * * * \\ \quad ? ? \\ \hline 2 1 9 8 \end{array} \qquad \begin{array}{r} * * * * \\ \quad ? ? \\ \hline 2 2 0 4 \end{array}$$

První a třetí uvedený součet má stejnou číslici na místě jednotek, v těchto případech tedy na místo označené $??$ patří čísla \overline{AC} a \overline{BC} . Zbylé číslo \overline{AB} tak náleží k součtu 2 198. Součet 2 224 je o 26 větší než 2 198, a proto nemohl vzniknout sečtením čísla $****$ a čísla \overline{AC} , které se od čísla \overline{AB} liší jen číslicí na místě jednotek. Čísla \overline{AB} , \overline{AC} , \overline{BC} tak máme jednoznačně přiřazena k součtům:

$$\begin{array}{r} * * * * \\ \quad BC \\ \hline 2 2 2 4 \end{array} \qquad \begin{array}{r} * * * * \\ \quad AB \\ \hline 2 1 9 8 \end{array} \qquad \begin{array}{r} * * * * \\ \quad AC \\ \hline 2 2 0 4 \end{array}$$

Podle prvního a třetího součtu platí: $B = A + 2$. Podle druhého a třetího součtu platí: $C = B + 6$, po dosazení předchozího vztahu dostaneme: $C = A + 2 + 6 = A + 8$. Písmeno A je dle zadání nenulové jednomístné číslo, a aby i C vycházelo jako jednomístné, může být A jedině 1. Pak $B = 3$ a $C = 9$. Prokleté číslo bylo tedy 139. Součet $****$ vypočteme například takto: $2\,224 - 39 = 2\,185$. Správně měl Vojtovi vyjít součet $2\,185 + 139 = 2\,324$.

Poznámka. K vyřešení úlohy není nutné stanovovat číslice B a C . K závěru můžeme dojít bez znalosti těchto číslic, tedy bez znalosti prokletého čísla, a sice takto: $2\,224 + \overline{A00} = 2\,224 + 100 = 2\,324$.

Hodnocení. 2 body za přiřazení pozic vynechaných číslic k jednotlivým součtům; 3 body za výpočet vynechaných číslic (v určitém typu postupu může postačit jen číslice A , viz poznámku); 1 bod za správný výsledný součet.